

La France depuis 1940 – La défaite de 1940 et l'Occupation allemande

Etudier la défaite de 1940 et l'Occupation allemande à l'échelle nationale



Activité à faire en salle de lecture : observe les vidéos à l'aide des liens QR Code et réponds aux questions sur ces vidéos.

Complète ensuite la carte au verso.

Vidéo 1 - La défaite française et l'armistice

Vidéo 2 - La France coupée en deux

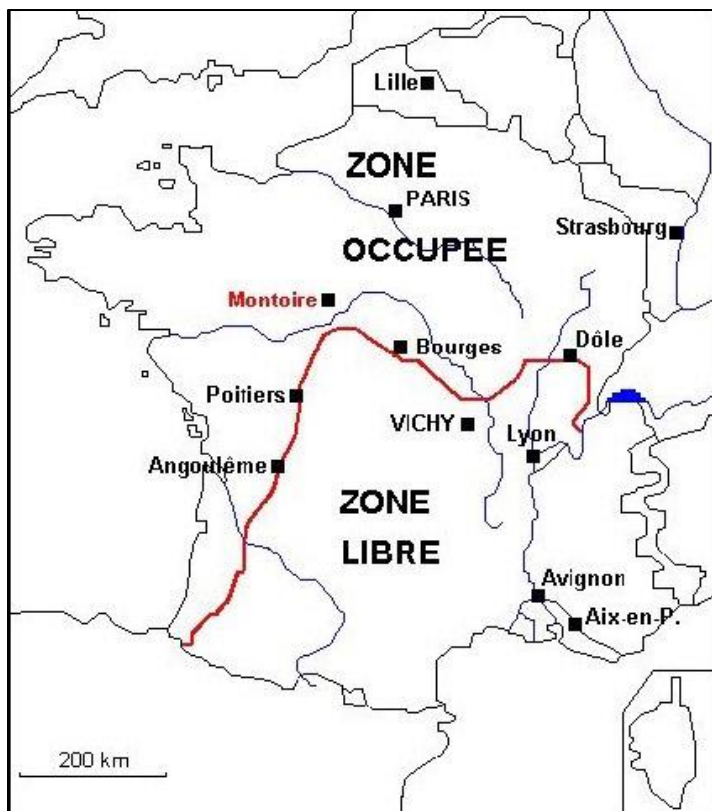
Questions sur les vidéos

Vidéo 1







1. Quand (mois et année) se déroulent les événements dont il est question dans la vidéo ? :.....
.....
2. Quel événement majeur a lieu ? :.....
.....
3. Quel personnage est appelé pour diriger la France ? Que demande-t-il aux Allemands ? Quand ? :
.....
.....
4. Que cherchent à faire les Allemands vis-à-vis des Français lors de la signature de l'armistice ? Justifie :.....
.....
.....

Vidéo 2

1. Donne un exemple des conditions imposées à la France par les Allemands :.....
.....
2. Comment est découpé le territoire français après l'armistice ? :.....
.....
3. Quelle est la nouvelle capitale de la France ? :.....
.....



Complète la carte ci-contre en t'aidant des explications données dans la deuxième vidéo.

-  :
-  : zone occupée par l'armée allemande.
-  : zone « libre », occupée par l'armée à partir de novembre 1942 allemande.
-  : zone annexée (prise) par l'Allemagne.
-  : zone rattachée militairement à la Belgique.
-  : zone occupée par l'armée italienne.

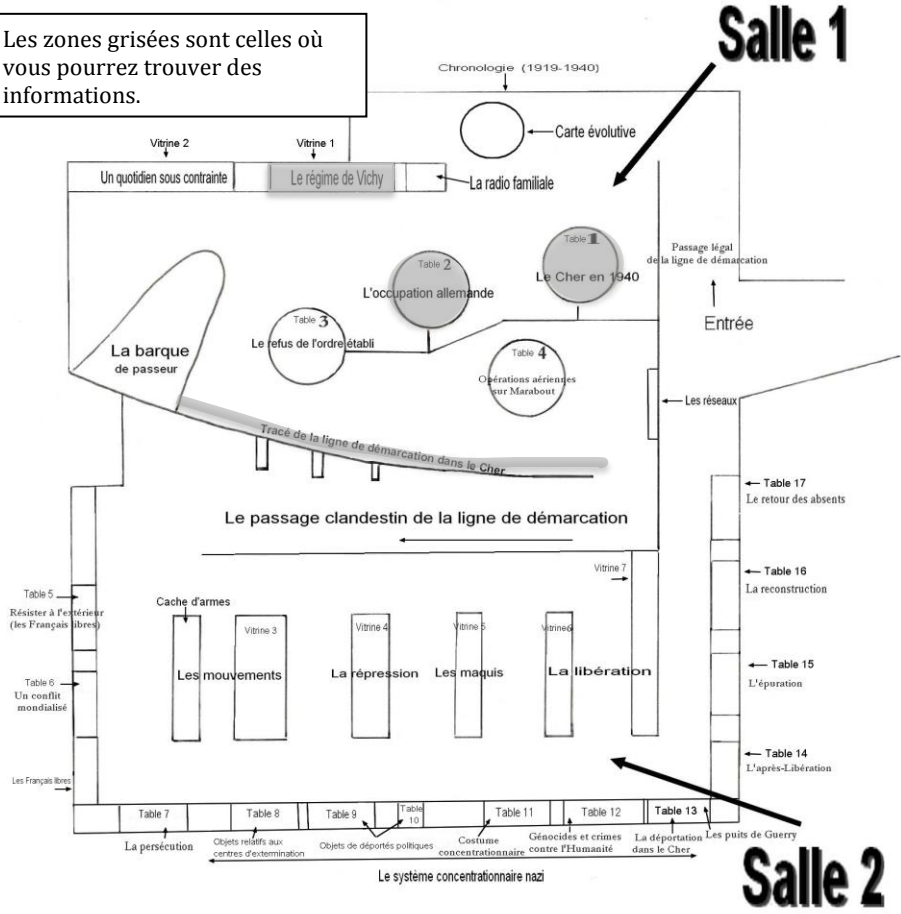
Plan du musée de la Résistance et de la Déportation du Cher

Activité à faire dans le musée : repère sur le plan du musée les espaces consacrés à la défaite de 1940 et à l'Occupation allemande.

Relève dans ces espaces le maximum d'informations afin de pouvoir rédiger ton rapport.

Commence par lire le panneau jaune de chaque vitrine.

Les zones grisées sont celles où vous pourrez trouver des informations.



Salle 1

Salle 2

Table « le Cher en 1940 »

- Pendant quel mois les troupes allemandes arrivent-elles dans le Cher ? :
- A quelle date arrivent-elles à Bourges ? :
- Y'a-t-il eu des combats entre soldats français et allemands dans le Cher ? Donne un exemple :

Table « l'Occupation allemande»

- 1. Comment se traduit l'occupation allemande dans le nord du département du Cher ?.....
.....
.....
.....
.....

- 2. Donne des exemples des services allemands installés à Bourges :.....
.....
.....
.....

Vitrine « le régime de Vichy»

- 1. A quelle date l'armistice entre la France et l'Allemagne est-il signé ?.....
.....
.....

- 2. Donne des exemples des mesures imposées à la France par cet armistice :.....
.....
.....
.....

Mur « la ligne de démarcation dans le Cher»

- 1. A partir de quelle année et jusqu'à quelle année la ligne de démarcation a coupé le département du Cher en deux ?.....
.....
.....

- 2. Comment s'appellent les deux territoires séparés par cette ligne ?:.....
.....
.....

- 3. Quelle est la grande différence économique entre la partie nord du Cher et la partie sud ?:.....
.....
.....
.....

- 4. Quels sont les problèmes posés aux habitants du Cher par la ligne de démarcation ?:.....
.....
.....
.....

- 5. Quel événement provoque l'invasion de la zone Sud par les Allemands ?:.....
.....
.....
.....